


EVALUACIÓN DIAGNÓSTICA DE SEGUNDO GRADO

Alumno(a) _____

Escuela Primaria _____


1. Une las oraciones con los dibujos que las representan



La perra tuvo perritos.



Esta es una casita hermosa.



Este cocinero hizo sopa.



La abejita está en las flores.




Ella baila con un viejo panzón.



La señora ordeña una vaca.



Pepe y Luisa se casaron.



El señor lee el periódico.



Este oso tiene calor.



El niño come hamburguesa.

2. Escribe un aviso para informar sobre algo que hayas perdido, por ejemplo, un juguete o una mascota

3. Une con una línea el nombre del oficio con la ilustración

campesino

albañil

pescador





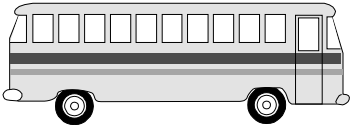

peluquera

costurera



4. Escribe 3 preguntas que le harías al presidente de la República si tuvieras oportunidad de entrevistarlo. No olvides los signos que deben llevar las preguntas

5. Escribe el nombre de cada uno de los animales y objetos



6. Relaciona los textos con su nombre

Tres tristes tigres tragaban trigo en un trigal

En los días de fiesta
se levanta alegre.
Verde, blanca y roja,
la saludo siempre

Mamá:

Salí un momento a comprar un lápiz a la tienda.
Regreso pronto. No te preocupes.

Juanito

Recado

Trabalenguas


Adivinanza

MATEMÁTICAS

1. Une las cantidades escritas con letra con los números que les corresponden

9	Treinta y cinco	63
	Setenta	
27	Nueve	70
	Sesenta y tres	
35	Veintisiete	83
	Noventa y siete	
42	Ochenta y tres	97
	Cuarenta y dos	

2. Encierra las estrellas de 10 en diez y marca en la tabla cuántos son



10	20	30	40	50	60	70	80	90
1	2	3	4	5	6	7	8	9

Son _____ estrellas

3. Escribe los números que faltan en las series numéricas

2	4	6	8		12				20
3	6			15	18			27	
5	10	15	20			35			

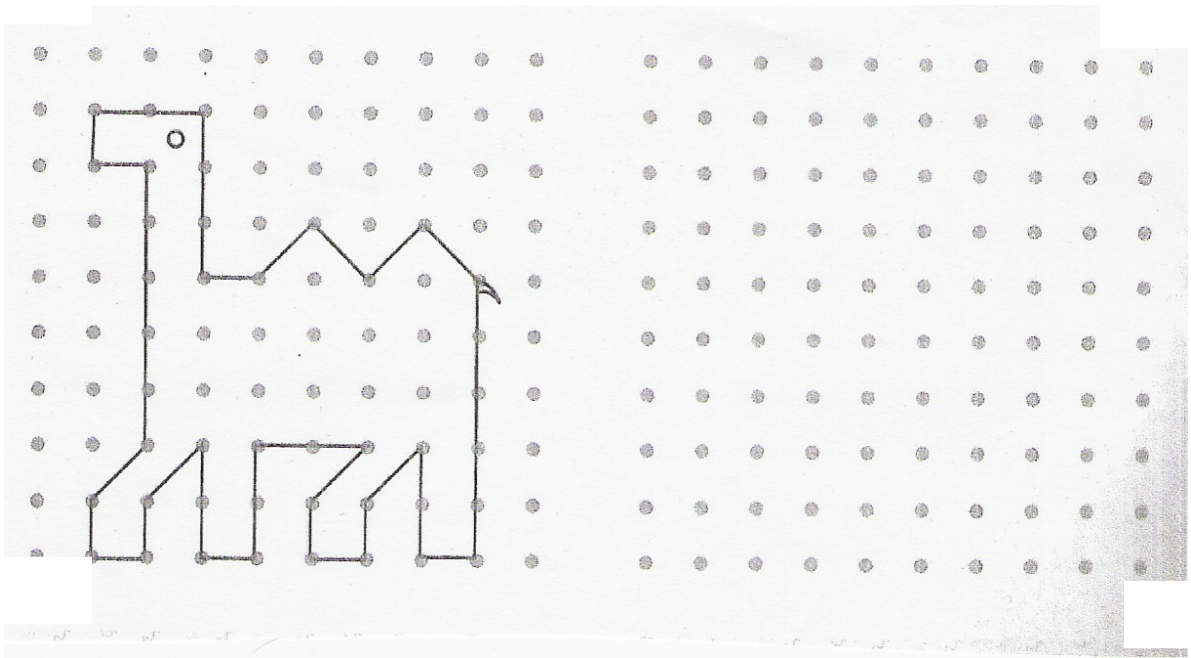
4. Juan compró 6 galletas que cuestan a 2 pesos cada una.

¿Cuánto pagó?

5. Rosa tenía 36 pesos pero gastó 15 en la tienda

¿Cuánto dinero le quedó?

6. Copia un camello igual en la cuadrícula y coloréalo



7. Realiza las siguientes operaciones

$$\begin{array}{r} 34 \\ +24 \\ \hline \end{array}$$

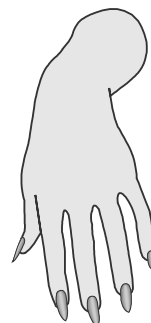
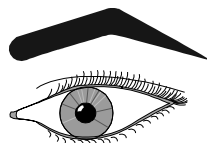

$$\begin{array}{r} 56 \\ +52 \\ \hline \end{array}$$

$$\begin{array}{r} 78 \\ -67 \\ \hline \end{array}$$

$$\begin{array}{r} 76 \\ -14 \\ \hline \end{array}$$

CONOCIMIENTO DEL MEDIO

1. Relaciona los dibujos con los sentidos que representan



Vista

Oído

Olfato

Gusto

Tacto

2. Todos los niños tienen derechos. Escribe dos derechos que tienes

3. Escribe ¿Quiénes pueden estar en una escuela?

4. Así como todos los niños tienen derechos, también tienen deberes en la escuela y en la familia. Escribe uno de cada uno

En la Escuela

En la Familia


5. ¿Cómo se llama la localidad donde vives? _____

6. ¿Qué localidades hay cerca de donde tú vives? _____

7. Escribe el nombre de algunos oficios y profesiones de personas que habitan en tu localidad

Oficios			
Profesiones			

8. De los siguientes dibujos encierra los que son seres vivos





9. Escribe donde corresponde los siguientes productos:

Miel

Mermelada de fresa

Huevos

Aceite de maíz






Jamón

Mesa de madera

Productos de origen animal

Productos de origen vegetal

12. Encierra los animales que nacen de huevo



10. ¿Cuáles son los días de la semana? Escríbelos:

11. Encierra la estación del año durante la que hace más frío

12. ¿Cuál es la lengua que hablamos la mayoría de los mexicanos? Enciérrala

Inglés

francés

español

chino