

Evaluación del Primer Bloque de Matemáticas.

Nombre del alumno: _____

1.- Une el número con su nombre.

1

Dos

2

Cinco

3

Uno





4

Cuatro

5

tres

2.- Cuenta los pétalos y escribe el número.



3.- Dictado de números.

a) _____

d) _____

g) _____

b) _____

e) _____


h) _____

c) _____

f) _____

i) _____

4.- Dibuja los palitos que faltan a cada paleta y contesta.



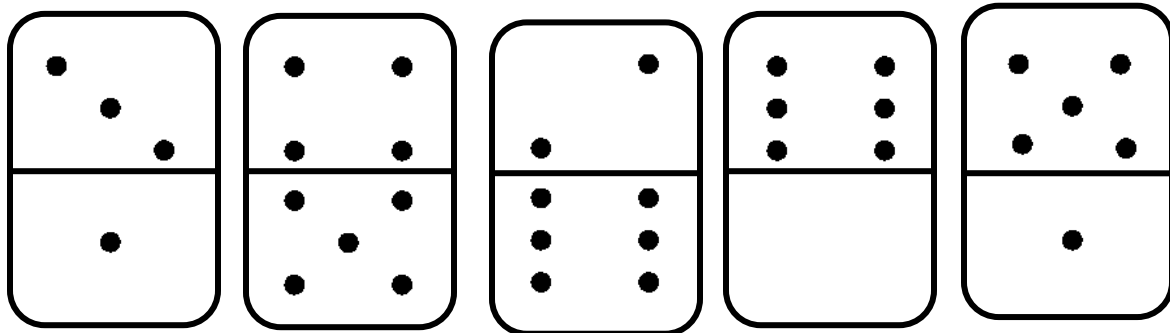
a).- ¿Cuántas paletas son?

R: _____

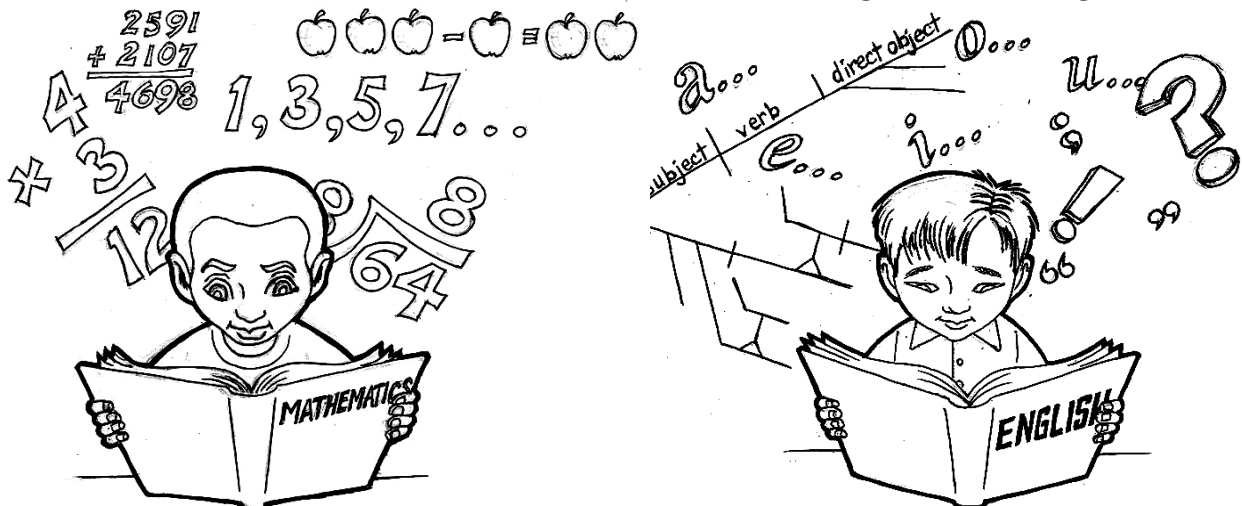
b).- ¿Cuántos palitos dibujaste?

R: _____


5.- Dibuja los puntos que faltan para que las dos partes de cada ficha sean iguales.





6.- Encierra los números que encuentres en la siguiente imagen.




7.- Completa las siguientes series fijate de los números que ya tienen.



8.- Cada mariposa debe pararse en una flor. Dibuja las flores que faltan.



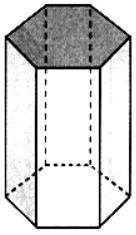
9.- Escribe el nombre de cada una de las siguientes figuras (triángulo, círculo, cuadrado y rectángulo)



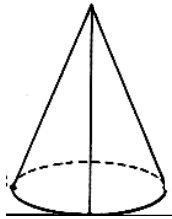
10.- Completa la siguiente sucesión.

1 - 2 - _____ **-** _____ **-** _____ **- 6 - 7 -** _____ **-** _____ **-** _____

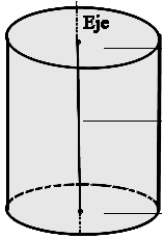
11.- Une con líneas el cuerpo geométrico con su nombre.



Cono



Cilindro



Prisma

12.- Fíjate en el cartel y contesta lo que te solicitan.

GRAN CIRCO

FUNCIONES

De lunes a sábado
6 PM y 8 PM.

Domingo
10 AM, 12 IM, 5 PM y 8 PM.

PRECIOS
Niños y adultos
\$10 Pesos

1.- ¿A qué hora son las funciones del jueves?

R: _____

2.- ¿Qué día hay más funciones?

R: _____

3.- ¿Cuánto cuesta un boleto?

R: _____

4.- Si tú y 2 primos entran al circo, ¿Cuánto pagarían?

R: _____