



Empecemos coloreando y haciendo restas.

$$\begin{array}{r} 9 \\ - 5 \\ \hline \end{array}$$

$$12 - 7 = \square$$



$$\begin{array}{r} 7 \\ - 6 \\ \hline \end{array}$$

$$6 - 3 = \square$$



$$\begin{array}{r} 5 \\ - 4 \\ \hline \end{array}$$


$$\begin{array}{r} 8 \\ - 4 \\ \hline \end{array}$$

$$10 - 9 = \square$$

$$\begin{array}{r} 5 \\ - 5 \\ \hline \end{array}$$

$$8 - 5 = \square$$


$$9 - 8 = \square$$





Decenas

Colorea y contesta.

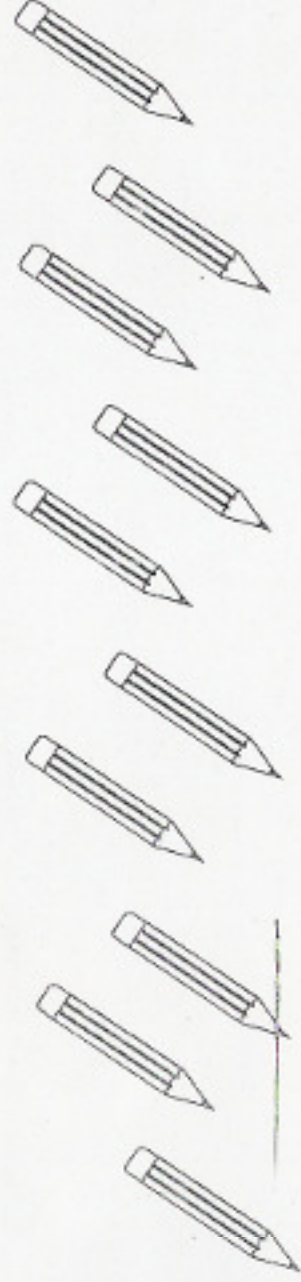


Hay

soles

10 soles forman

decena



Hay

lápices

10 lápices forman

decena



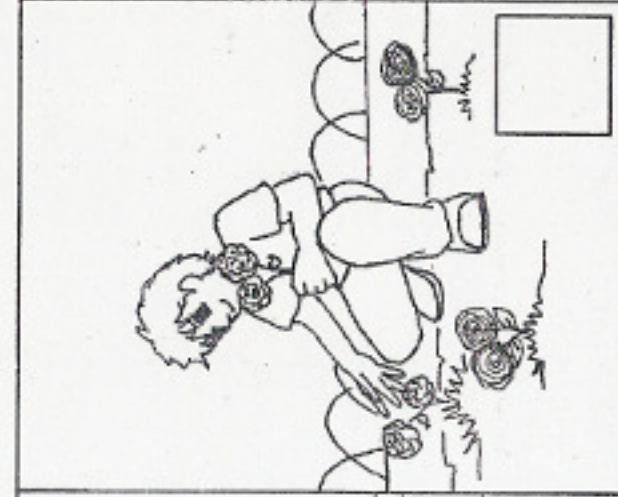

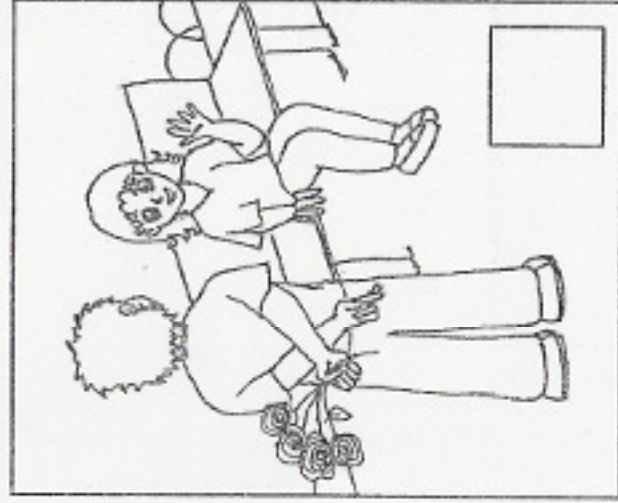
Hay

osos

10 osos forman

decena

Acomoda el cuento



Escribe con v ó b

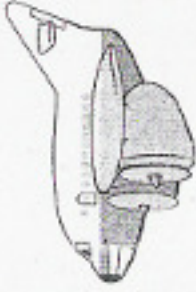
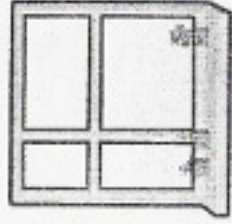


__aso

lo__o

ár__oles

__ota




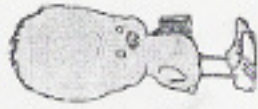
__aca

__entana

a__jón

__anca

Observa y contesta




2 paletas
por un peso



tengo 8 pesos
me dan



tengo 5 pesos
me dan



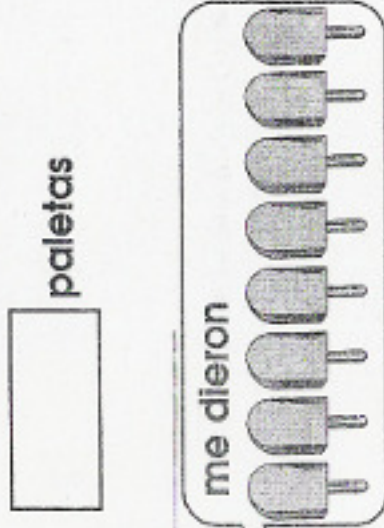
paletas

Vicky



paletas

Estela




me dieron




Arturo



pagué pesos



me dieron



Héctor



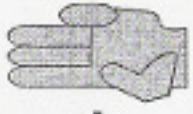
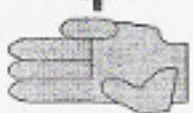
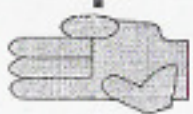
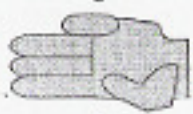
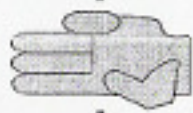
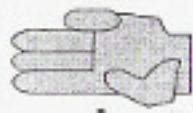
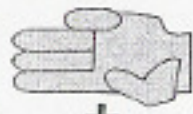
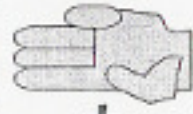
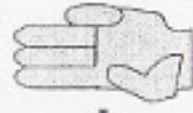
pagué

pesos

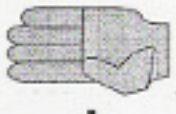
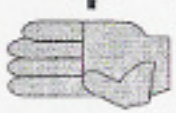
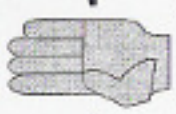
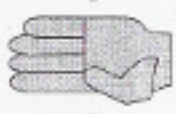
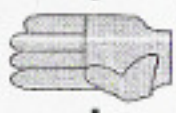
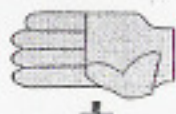
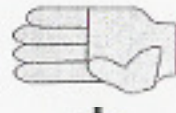
Completa las series




3



4



Encuentra las letras perdidas.



que r rero



man a era



g itarra



a m la



ma l ey



hormi l ro



l elado



l ormiga



h oja



h ermano



h imo



h ievos



Ordena estas oraciones.

tortuguita busca La comida su

vacaciones Mis divertidas son

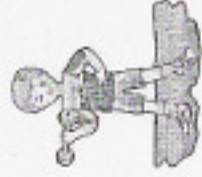
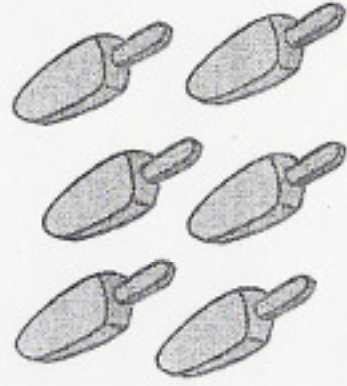
zanahorias Las buenas vista para son la

práctico por kárate las tardes Yo

Wendy Zamora fue visitar a

toca guitarra papá la Mi

Reparte una paleta para cada niño.



¿Cuántas paletas sobran?




Cuenta de 2 en 2



Cuenta de 3 en 3



Cuenta de 4 en 4



Cuenta de 5 en 5



Cuenta de 6 en 6





Tacha (x) el número mayor de cada pareja

2

3

15

11

17

28

30

16

10

21

83

99

12

10

Tacha (x) el número menor de cada pareja

9

6

0

4

10

6

17

13

26

27

34

30

45

54



4

Lee las oraciones y escribelas en su dibujo.

- 1.- Dame dos zanahorias rayadas.
- 2.- Los pingüinos son pequeños.
- 3.- Mi mamá me compró tres moños.
- 4.- Yo práctico kárate los sábados.
- 5.- Me gusta la nieve de vainilla con chocolate.







¡A sumar y colorear!



$$\begin{array}{r} 18 \\ + 8 \\ \hline \end{array} =$$

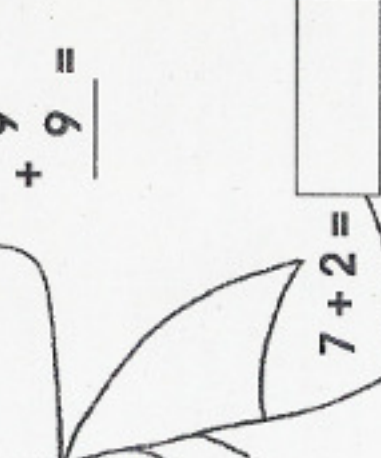
$$5 + 9 =$$



$$\begin{array}{r} 8 \\ + 7 \\ \hline \end{array} =$$

$$\begin{array}{r} 9 \\ + 9 \\ \hline \end{array} =$$

$$6 + 4 =$$



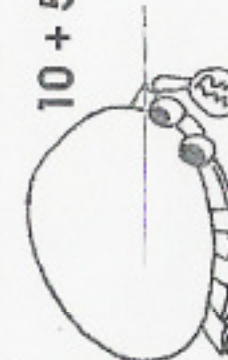
$$7 + 2 =$$

$$12 + 8 =$$

$$\begin{array}{r} 6 \\ + 2 \\ \hline \end{array} =$$

$$10 + 5 =$$


$$10 + 3 =$$





Resuelve las siguientes sumas.

	+		+		=	<input type="text"/>
	+		+		=	<input type="text"/>
	+		+		=	<input type="text"/>




Resuelve las siguientes restas.

	-		=	<input type="text"/>
	-		=	<input type="text"/>



Practica mejorar los trazos de tu letra.



Los peces nadan mucho



Me gustan las flores blancas



Encuentra los números que faltan para llegar al 100.



10

5

11

19

16

20

21

23

26

30

31

40

41

49

50

51

60

62

70

75

80

88

90

99

100



Relaciona las acciones con el dibujo

correr

leer

dormir

nadar

brincar

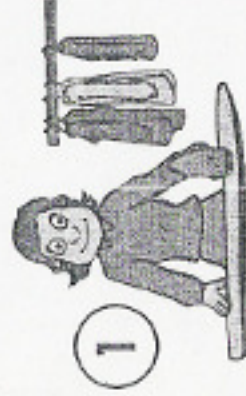
escribir

barrer

planchar

patinar

bailar



1



2



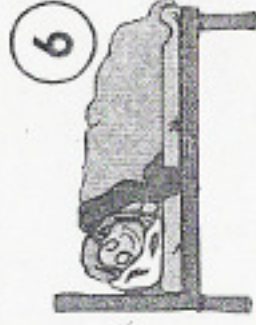
3



4



5




6



7



8



9



10

Antecesor y sucesor.

Escribe los números que van antes y los que van después de estos números



antes	después	antes	después
<input type="text"/>	5	<input type="text"/>	7
<input type="text"/>	9	<input type="text"/>	10
<input type="text"/>	11	<input type="text"/>	1
<input type="text"/>	16	<input type="text"/>	30
<input type="text"/>	19	<input type="text"/>	29

¡Adivina adivinador!

Marca con una **(x)**


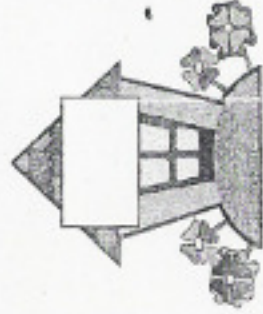
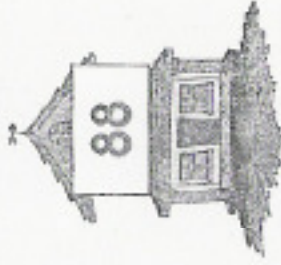
Si el antecesor es 49 y el sucesor es 51,
¿De qué número se trata?

- 48 52 50

Si el antecesor es 20 y el sucesor es 22,
¿De que número se trata?

- 19 23 21

Encuentra el número de esta casa.





Colorea los animalitos.

Se perdieron unas letras encuentralas y completa los nombres de los animalitos.



m _ _ i p _ _ _



c a _ _ _ _ _



_ o _ i l _ _



p e _ _ o



_ e _ _ _



_ a _ _ _



_ _ a n _ _ _



_ _ _ _ o _ _ _



_ _ a c a



_ _ _ n a



p á _ _ _ _



_ _ r a _ _ _



Escribe los números ordinales



1º

8º

Escribe los nombres de los números ordinales

1º _____ 2º _____ 3º _____

6º _____ 7º _____ 10º _____

Reparte las zanahorias a los conejos para que les toque lo mismo



le tocan




le tocan



le tocan

Reparte las manzanas a cada niño



le tocan



le tocan



le tocan



le tocan



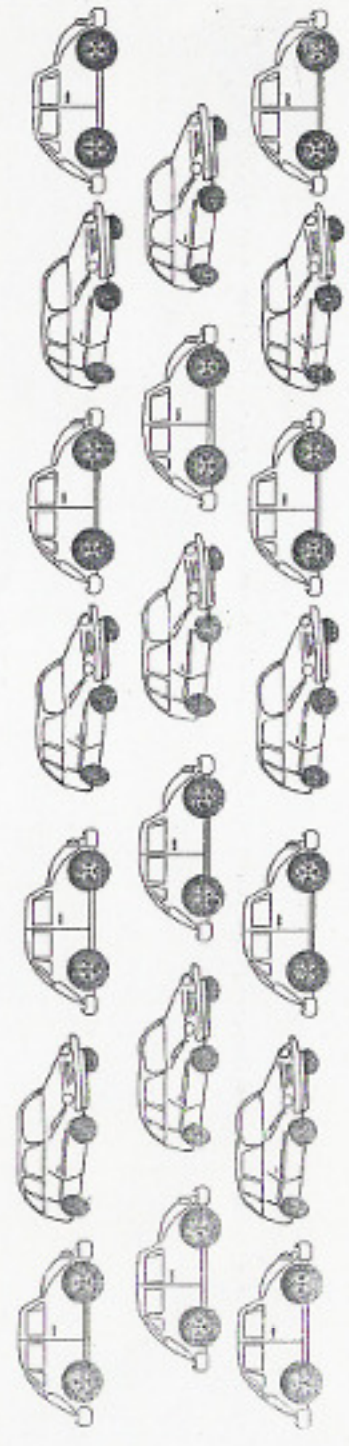
le tocan



colorea 10 lápices azules
colorea 10 lápices rojos
colorea 10 lápices rosas

¿Cuántas decenas hay?


hay decenas



colorea 10 carros verdes
colorea 10 carros naranja

hay decenas

Dibuja 10 manzanas a cada árbol.

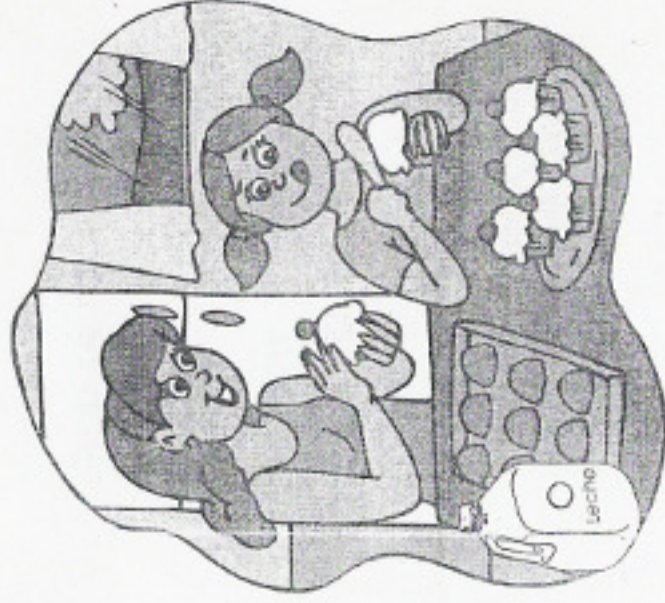
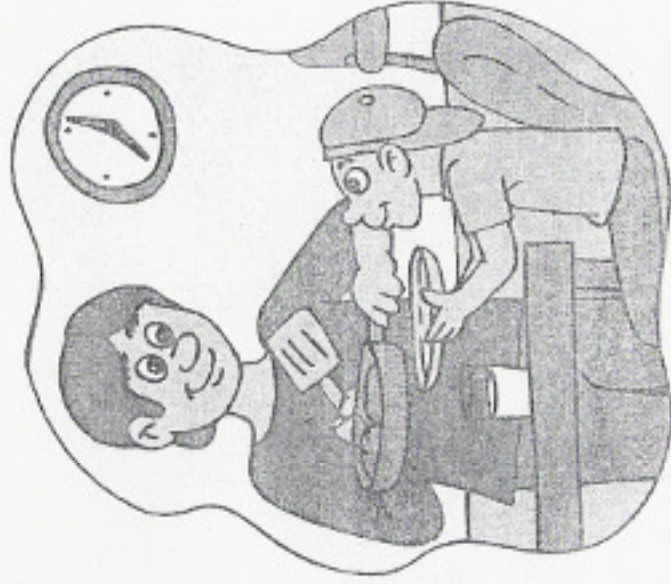


¿Cuántas decenas de manzanas dibujaste?



¡A leer y escribir!

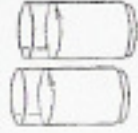
En las líneas escribe los nombres de los dibujos
y lee la lectura a tus papás.



A las siete y media esta listo el desayuno.



El _____ lleva el _____ a la mesa.




Mamá sirve la _____ en los _____ y prepara

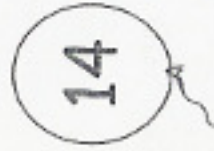


jugo de _____. En el _____ fríe los _____.

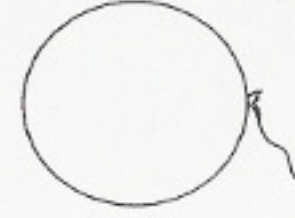
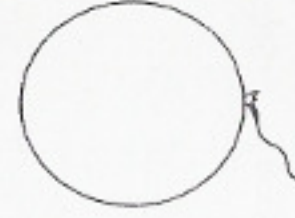
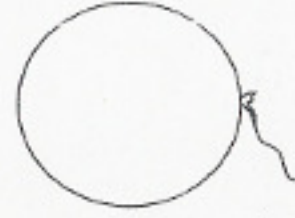
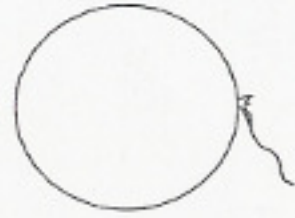
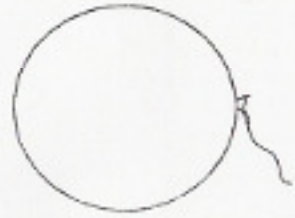


Escribe los nombres de los números.





Escribe los números.



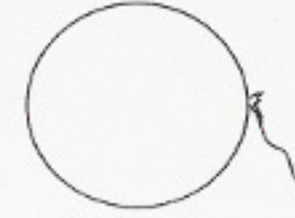
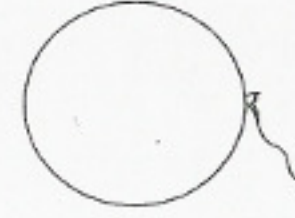
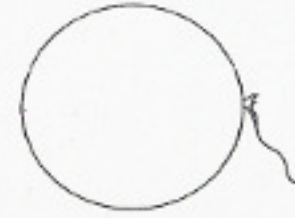
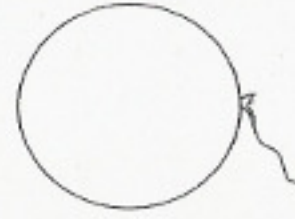
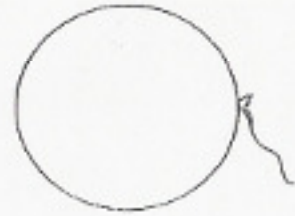
quince

diecinueve

veintiuno

treinta y dos

trece



primero

tercero

quinto

séptimo

noveno

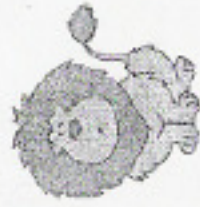


Ordena las siguientes oraciones

rápido corre El ratón



león vive El selva en la



lento tortuga camina La



campo brinca en caballo El el



Ordena alfabéticamente los nombres de los niños

J
K
L
M
N
Ñ
O
P
Q
R
S
T
U
V



Raúl



Karla



Juan



Sara



Laura



Omar



Teresa



María



Ulises



Verónica



Pedro


Natqija

¡A encerrar decenas!




11

Encierra las decenas y contesta.




hay _____ decenas

sobran _____ unidades



hay _____ decenas

sobran _____ unidades



hay _____ decenas

sobran _____ unidades



Resuelve las sumas

$$\begin{array}{r} 20 \\ + 38 \\ \hline \square \end{array}$$

$$\begin{array}{r} 30 \\ + 43 \\ \hline \square \end{array}$$

$$\begin{array}{r} 50 \\ + 19 \\ \hline \square \end{array}$$

$$\begin{array}{r} 40 \\ + 91 \\ \hline \square \end{array}$$

$$\begin{array}{r} 8 \\ + 3 \\ \hline \square \end{array}$$

$$\begin{array}{r} 4 \\ + 9 \\ \hline \square \end{array}$$

$$\begin{array}{r} 82 \\ 15 \\ + 6 \\ \hline \square \end{array}$$

$$\begin{array}{r} 36 \\ + 17 \\ \hline \square \end{array}$$

$$\begin{array}{r} 9 \\ 6 \\ + 8 \\ \hline \square \end{array}$$

$$\begin{array}{r} 56 \\ + 19 \\ \hline \square \end{array}$$

$$\begin{array}{r} 62 \\ + 18 \\ \hline \square \end{array}$$

Resuelve las restas

$$\begin{array}{r} 63 \\ - 12 \\ \hline \square \end{array}$$

$$\begin{array}{r} 38 \\ - 24 \\ \hline \square \end{array}$$

$$\begin{array}{r} 15 \\ - 9 \\ \hline \square \end{array}$$

$$\begin{array}{r} 36 \\ - 25 \\ \hline \square \end{array}$$

$$\begin{array}{r} 98 \\ - 57 \\ \hline \square \end{array}$$

$$\begin{array}{r} 19 \\ - 8 \\ \hline \square \end{array}$$

$$\begin{array}{r} 45 \\ - 31 \\ \hline \square \end{array}$$

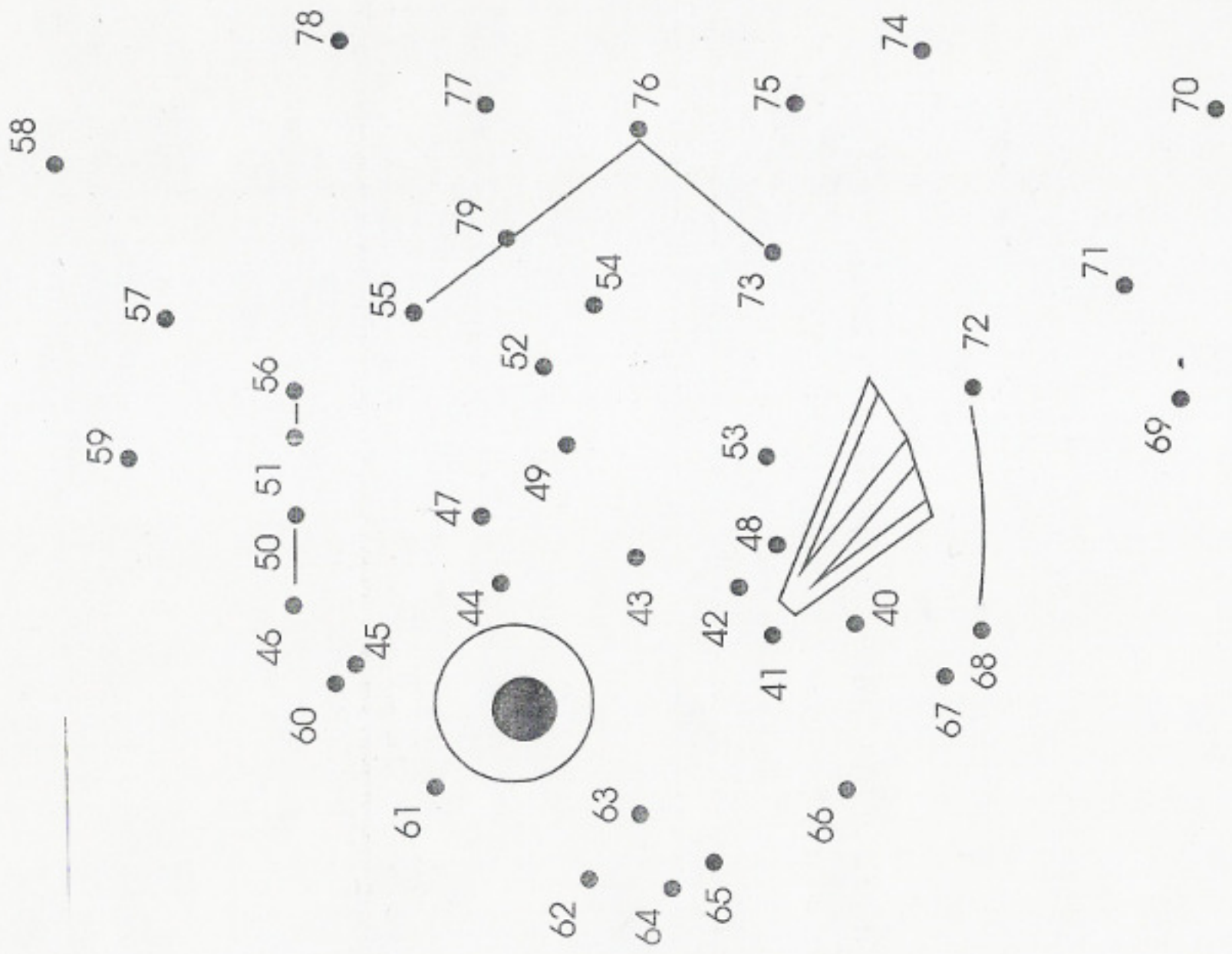
$$\begin{array}{r} 28 \\ - 17 \\ \hline \square \end{array}$$

$$\begin{array}{r} 69 \\ - 9 \\ \hline \square \end{array}$$

$$\begin{array}{r} 72 \\ - 72 \\ \hline \square \end{array}$$



Une los puntos y colorea la figura uniendo la numeración del 40 al 79





Escribe los nombres de estos números.

1

30

2

32

3

40

4

46

5

50

6

54

7

60

8

68 sesenta y ocho

9

70

10

73

11

80

12

85

13

90

14

99 noventa y nueve

15

21

16

28 dieciséis

17

36

18

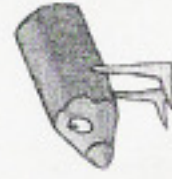
39

19

87

20

100



Une con una línea las palabras con los dibujos que le corresponden.



bicicleta

plancha



chicles


playa



iglú



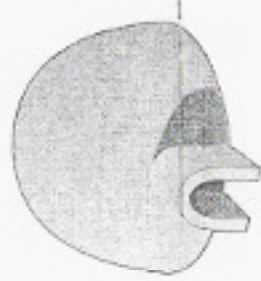
plato



flores



flechas



globo




clavo

regla

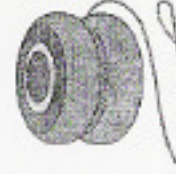
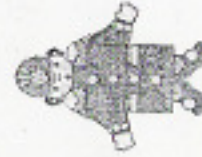
14

Observa y cuenta.

JUGUETILANDIA



¿Cuántos hay de cada uno?





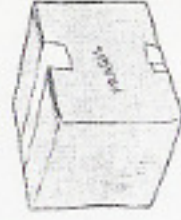
quesadillas

1

2

1

2



paquete

1

2

1

2



raqueta

1

2

1

2



cerillos

1

2

1

2



cinturón

1

2

1

2



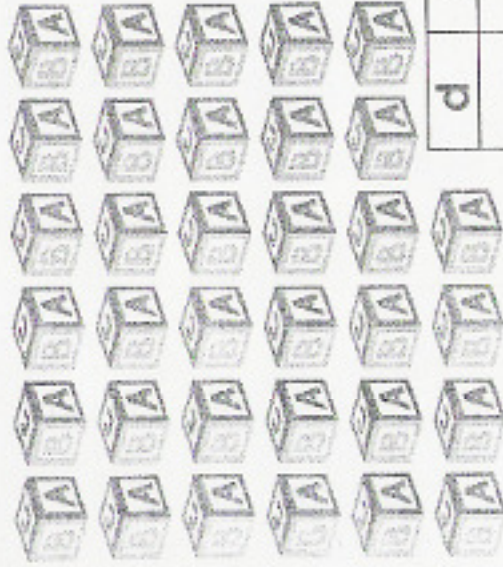
1

2

1

2


¿Cuántas decenas y unidades hay en cada dibujo?




d	u
---	---



d	u
---	---




d	u
---	---



d	u
---	---



d	u
---	---



d	u
---	---

¿Recuerdas como se llama cada texto?
Buscalo y escríbelo donde corresponde.



15

cartel - aviso - anuncio - recado - carta - instructivo

El día 5 de septiembre
se hará aseo en la
escuela, no faltes

Se solicita chofer
para repartir pasteles
requisitos: soltero,
con ganas de trabajar.
Presentarse en la
panadería "La Concha"

Mamá, me fui
a la tienda.
Regreso pronto.
Brenda

Guadalajara, Jal. a
3 de Diciembre

Querido Abuelo

Pronto iré para que veas mi
colección de insectos, son
muy bonitos, algunos hasta
se comen.

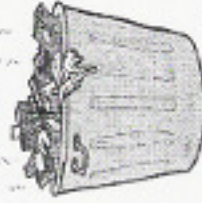
Saludos a la abuela.

Tu nieto que te quiere

Ponchito

¡Cuidado!

Atínale al bote



No contamines



Completa las siguientes sumas.

$$30 + \square = 35$$

$$40 + \square = 41$$

$$\square + 8 = 58$$

$$\square + 3 = 93$$

$$20 + \square = 22$$

$$10 + \square = 16$$

$$\begin{array}{r} 60 \\ + \square \\ \hline 64 \end{array}$$

$$\begin{array}{r} \square \\ + 7 \\ \hline 87 \end{array}$$

$$\begin{array}{r} 70 \\ + \square \\ \hline 79 \end{array}$$

$$\begin{array}{r} 5 \\ + 3 \\ \hline \square \end{array}$$

$$\begin{array}{r} 23 \\ + 45 \\ \hline \end{array}$$

$$\begin{array}{r} 36 \\ + 62 \\ \hline \end{array}$$

$$\begin{array}{r} 51 \\ + 37 \\ \hline \end{array}$$

$$\begin{array}{r} 84 \\ + 16 \\ \hline \end{array}$$

Escribe los signos de Interrogación (¿?)
o de admiración (!) a las siguientes oraciones
sobre las rayas.



___ Por qué debemos cuidar los ojos ___

___ Qué bonitos ojos tienes ___

___ Cuando vendrá tu abuelita ___

___ Quién quiere nieve ___

___ Está riquísima esta nieve ___

___ Qué lindo día ___

___ Cuidado, un alacrán ___

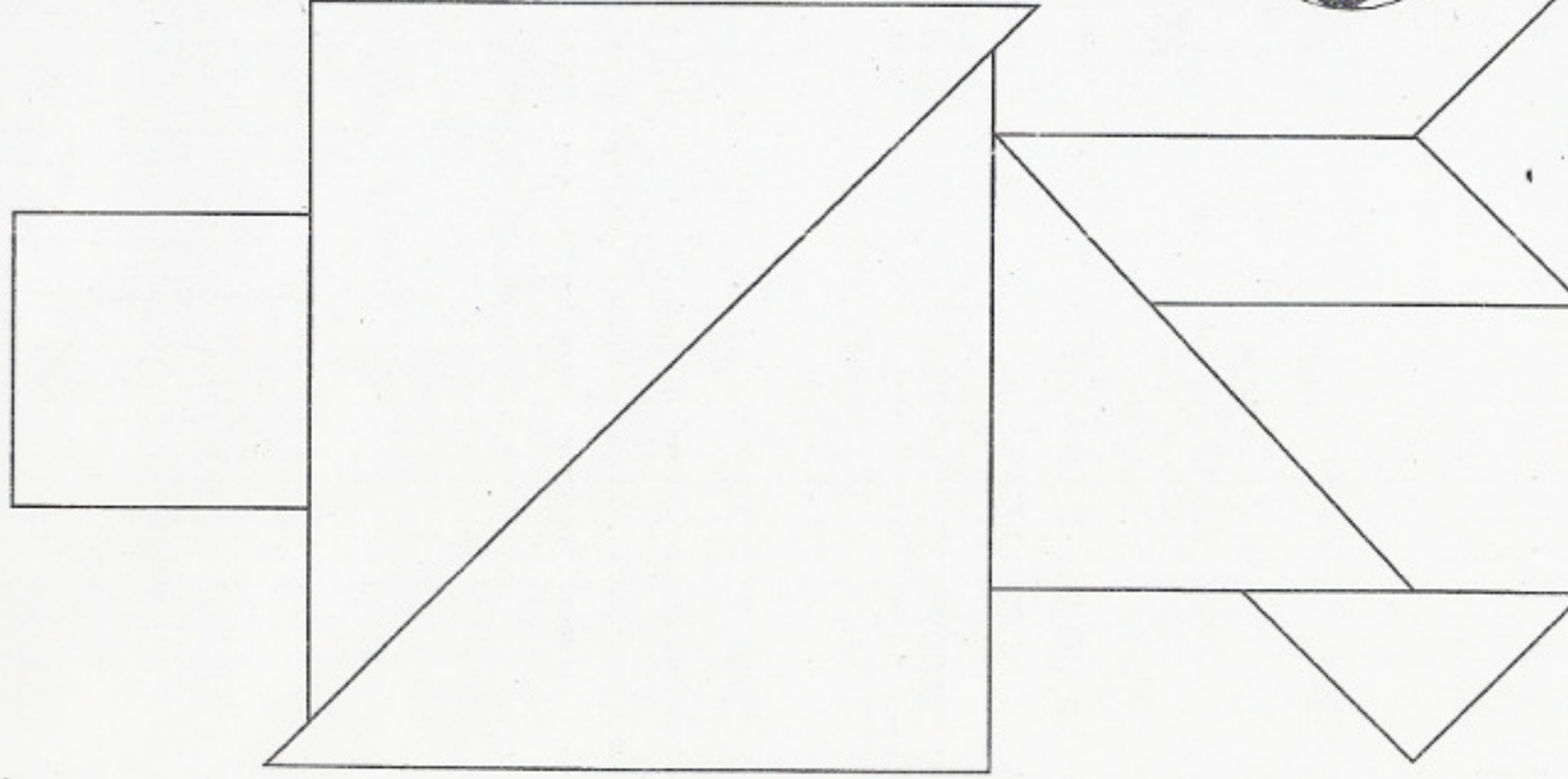
___ Dónde está tu mamá ___

___ Qué vamos a comer ___

___ Auxilio, me persiguen ___



Observa esta figura del **trángram**
y colorea los **△** que encuentres.



¡Adivina adivinador!



17


Si Luci tenía 9 donas y ahora tiene 2

¿Cuántas donas se comió?



Si en una pecera había 15 peces y metieron 7 más

¿Cuántos hay ahora?



Si tengo 10 pesos y me compro una paleta de 7 pesos

¿Cuánto dinero me queda?



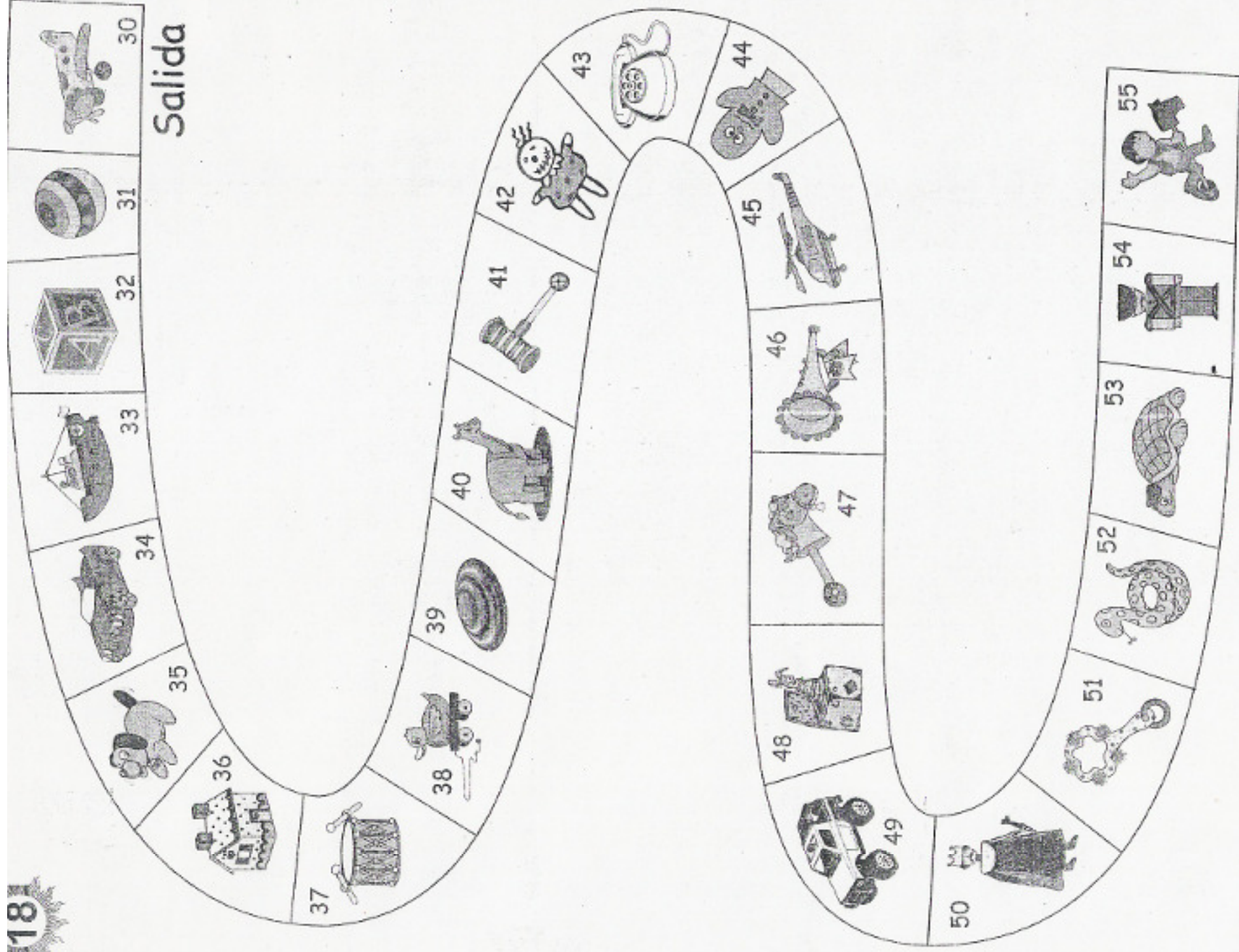
¿Qué número está entre el 13 y el 15? Está el

¿Qué número está antes del 79? Está el

¿Qué número es más grande que el 58?

¿Cómo se llama la figura que tiene 3 lados?

Salida



Observa el caminito de juguetes para poder contestar.



Todos salen del casillero 30.



Melisa caminó un total de 20 casilleros
¿A qué número llegó?



Alex caminó 12 casilleros y luego 5 más
¿Hasta qué número llegó?



Ricardo primero caminó 7 casilleros y después
15 casilleros ¿Hasta cuál número llegó?



Saúl caminó una decena de casilleros
¿A qué número llegó?



Karina llegó al casillero 50
¿Cuántos casilleros camino?



Sebastián llegó al casillero 47 ¿Cuántos casilleros
le faltan para llegar al de campeón?

Escribe los números que hay entre el y el

Encierra la niña que caminó más casilleros



Andrea caminó del 33 al 45



Vanessa camino del 39 al 54




Ejercicios preparatorios de letra cursiva



1
2



1
2




1
2



1
2




1
2



1
2



1
2



1
2



1
2

1 c c c c c c c c
2 c c c c c c c c

1 B B B B B B B B
2 B B B B B B B B

1 C C C C C C C C
2 C C C C C C C C

1 d d d d d d d d
2 d d d d d d d d

1 e e e e e e e e
2 e e e e e e e e

1 f f f f f f f f
2 f f f f f f f f

1 g g g g g g g g
2 g g g g g g g g


1 h h h h h h h h
2 h h h h h h h h

1 i i i i i i i i
2 i i i i i i i i

1 j j j j j j j j
2 j j j j j j j j

¿Sobran o faltan?

Observa el dibujo, reparte una silla y una mochila por cada niño y contesta las preguntas.



- ¿Sobran o faltan sillas? _____
- ¿Sobran o faltan mochilas? _____
- ¿Cuántas mochilas faltan? _____
- ¿Cuántas sillas sobran? _____

Problemas

La gallina puso 19 huevos.

Si rompió 8. ¿Cuántos huevos quedaron?



Quedaron huevos

Un lápiz cuesta 2 pesos. ¿Cuánto pagaré por 4 lápices?



Pagaré pesos

Separa estas oraciones.



20

Mimámellelvódevacacionesalplaya.

Esechanguitotrepalosárboles.

Unaranasaltóalapiedra.

Misabuelitosnosvisitancadaaño.

Escribe 5 palabras con r al principio, 5 con r en medio.



ratón



carro



¡A quitar y poner!



$$+ 5 =$$



$$\begin{array}{r} 9 \\ - 4 \\ \hline \end{array} =$$




$$- 8 =$$



$$\begin{array}{r} 8 \\ + 9 \\ \hline \end{array} =$$




$$+ 9 =$$



$$\begin{array}{r} 12 \\ - 5 \\ \hline \end{array} =$$




$$- 12 =$$



$$\begin{array}{r} 13 \\ + 7 \\ \hline \end{array} =$$



$$+ 6 =$$



$$\begin{array}{r} 5 \\ - 5 \\ \hline \end{array} =$$



$$- 10 =$$



$$\begin{array}{r} 14 \\ + 32 \\ \hline \end{array} =$$



¡A inventar oraciones!

Con estas palabras inventa oraciones.



piña



moño



uvas



pollo



galleta



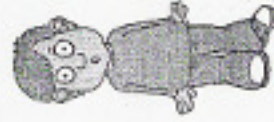
caballo

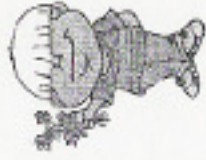
Ordena de mayor a menor.

Escribe sobre la raya y dentro del cuadro los números ordinales del 1 al 5 que le tocan a cada niño según su estatura de mayor a menor.










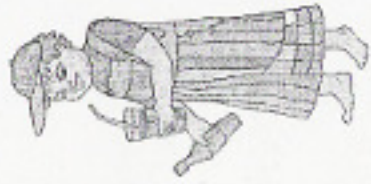


Ahora observa los dibujos y contesta.



6º

Luis



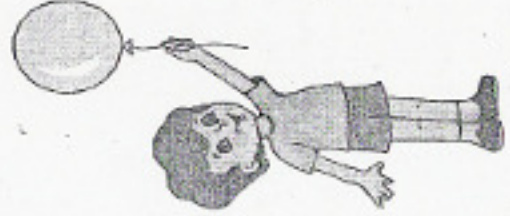
7º

Carlos



8º

Paty



9º

Daniel



10º

Gustavo

¿Quién tiene el décimo lugar? _____

¿Qué lugar está entre Luis y Paty? _____

¿Quién está después del octavo lugar? _____

¿El sexto lugar lo tiene? _____

Están revueltos los sonidos que hacen los animalitos. Une con una línea a cada animalito con su sonido



miauuu

muuu

guau

pio pio

cua cua

oink

croac

bzzzzz



Ordena alfabéticamente

a

b

c

d

e

f

g

h

i

burro

elefante

hormiga

gato

iguana

dinosaurio

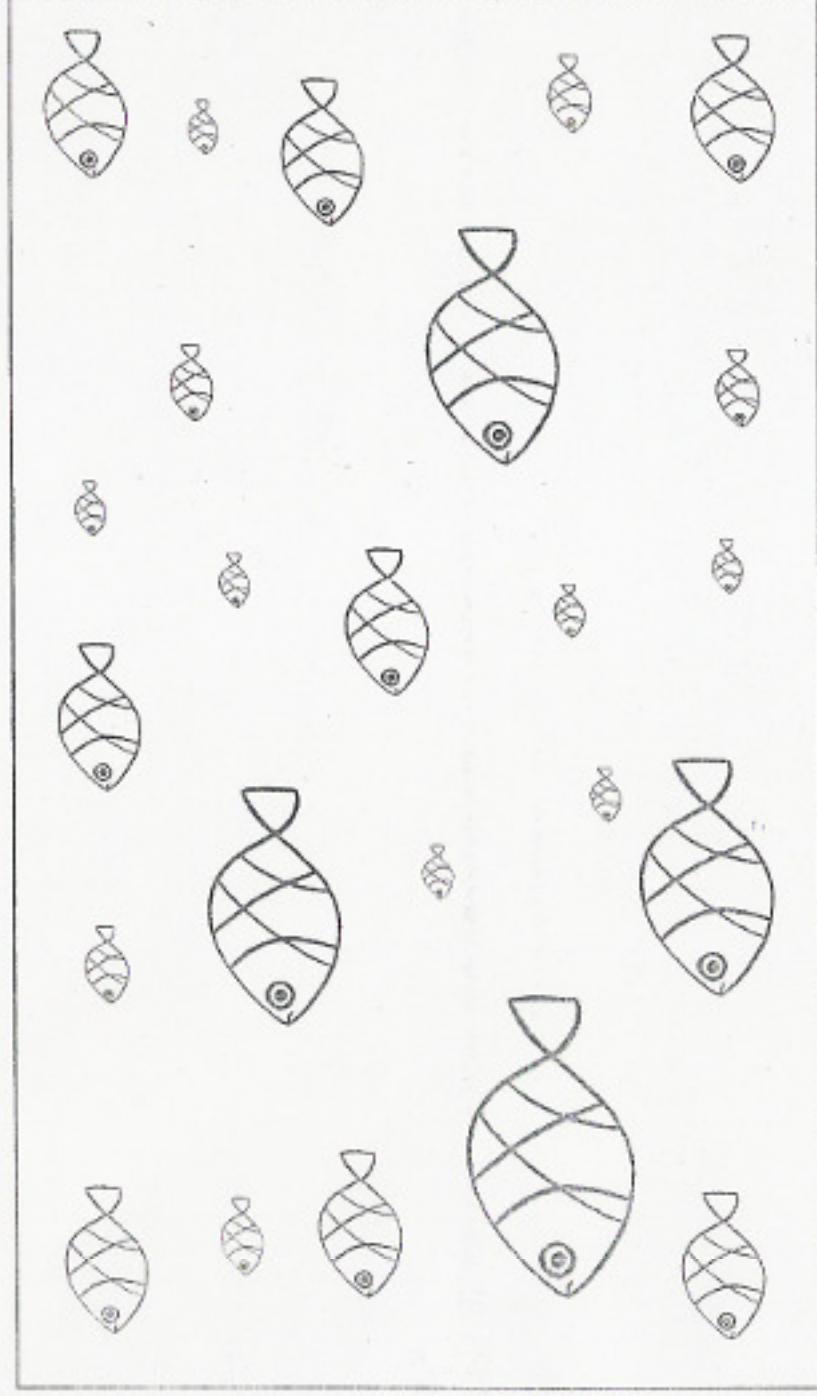
caballo

foca

abeja



En esta pecera hay 8 peces del mismo tamaño encuentranlos y colorealos.



Termina las series en cada renglón.

12 _____ 18 _____ 22 _____

25 _____ 30 _____

73 _____

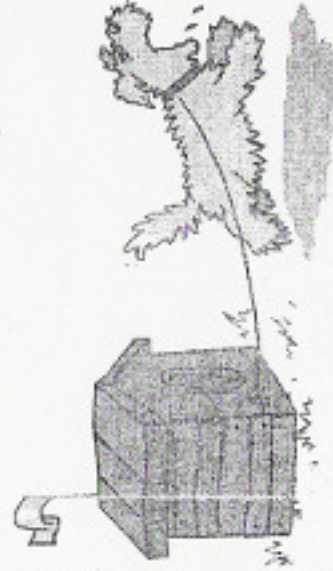
58 _____ 69 _____

91 _____ 96 _____ 100 _____

Recorta los cuadros y pegalos en los dibujos de la hoja siguiente donde correspondan.

Huevos a la mexicana
 Ingredientes
 2 huevos
 Jitomate, cebolla y chile al gusto
 Picar la cebolla, el jitomate y el chile y revolverlo con los huevos

¡Cuidado con el perro!



Sofía:

Ya no estes enojada
 conmigo


te veo en el recreo

Luis


Feria del libro



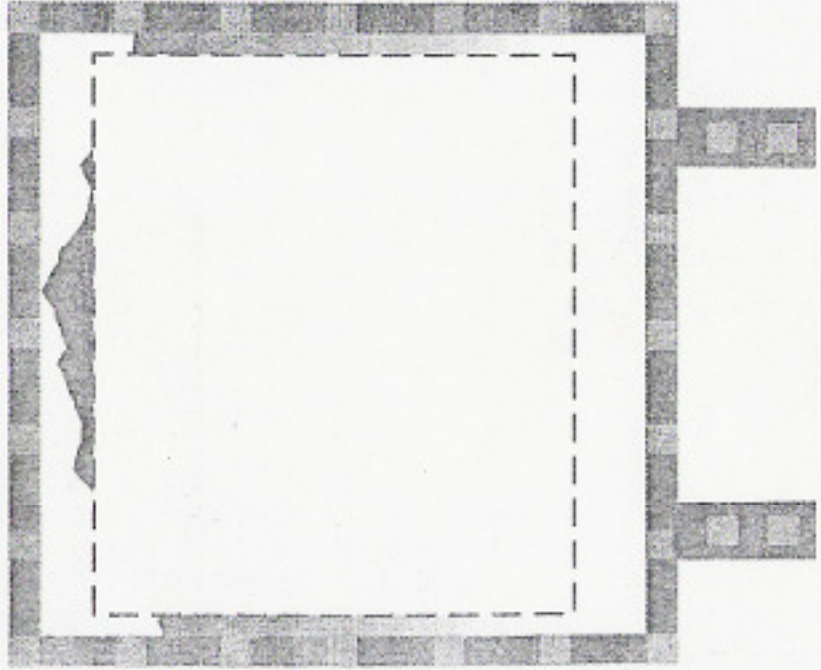
al leer un libro aprendes más



Receta




Anuncio



Carta

Recado





Realiza las siguientes sumas

$$\begin{array}{r} 17 \\ + 23 \\ \hline \end{array} \quad \begin{array}{r} 12 \\ + 18 \\ \hline \end{array} \quad \begin{array}{r} 15 \\ + 35 \\ \hline \end{array} \quad \begin{array}{r} 14 \\ + 10 \\ \hline \end{array} \quad \begin{array}{r} 13 \\ + 16 \\ \hline \end{array} \quad \begin{array}{r} 16 \\ + 24 \\ \hline \end{array}$$

$$\begin{array}{r} 18 \\ + 42 \\ \hline \end{array} \quad \begin{array}{r} 19 \\ + 51 \\ \hline \end{array} \quad \begin{array}{r} 20 \\ + 35 \\ \hline \end{array} \quad \begin{array}{r} 21 \\ + 33 \\ \hline \end{array} \quad \begin{array}{r} 42 \\ + 46 \\ \hline \end{array} \quad \begin{array}{r} 31 \\ + 24 \\ \hline \end{array}$$



Realiza las siguientes restas

$$\begin{array}{r} 36 \\ - 24 \\ \hline \end{array} \quad \begin{array}{r} 88 \\ - 44 \\ \hline \end{array} \quad \begin{array}{r} 25 \\ - 10 \\ \hline \end{array} \quad \begin{array}{r} 18 \\ - 9 \\ \hline \end{array} \quad \begin{array}{r} 10 \\ - 5 \\ \hline \end{array}$$

$$\begin{array}{r} 26 \\ - 20 \\ \hline \end{array} \quad \begin{array}{r} 48 \\ - 30 \\ \hline \end{array} \quad \begin{array}{r} 67 \\ - 20 \\ \hline \end{array} \quad \begin{array}{r} 88 \\ - 50 \\ \hline \end{array} \quad \begin{array}{r} 90 \\ - 80 \\ \hline \end{array}$$



Inventa las siguientes sumas.

$$\begin{array}{r}
 + \\
 \hline
 10
 \end{array}
 +
 \begin{array}{r}
 + \\
 \hline
 25
 \end{array}
 +
 \begin{array}{r}
 + \\
 \hline
 34
 \end{array}
 +
 \begin{array}{r}
 + \\
 \hline
 62
 \end{array}$$

$$\begin{array}{r}
 + \\
 \hline
 18
 \end{array}
 +
 \begin{array}{r}
 + \\
 \hline
 70
 \end{array}
 +
 \begin{array}{r}
 + \\
 \hline
 42
 \end{array}
 +
 \begin{array}{r}
 + \\
 \hline
 51
 \end{array}$$

Ahora relaciona las cantidades que se indican.

cuarenta y ocho

49

sesenta y cinco

93

ochenta y tres

29

diecisiete

65

veintinueve

83

noventa y siete

38

setenta y dos

48

cuarenta y nueve

17

treinta y ocho

97

noventa y tres

72


Colorea como se te pide:

morado - círculos

azul - cuadrados

verde - triángulos

rosa - rectángulos





Completa la siguiente numeración del 1 al 99.

	1	2			6		9
10			14			18	
		23		25			29
30	31			36			
40		42			47		
			53				
60			64			68	69
	71			75			79
80		82			86	88	
90			93			97	99

Problema

En un parque hay 24 arbolitos y plantaron 9 arbolitos más

¿Cuántos arbolitos hay ahora?



+



Hay

Arbolitos



Escribe los nombres de los números
y colorea a los animales



Recuerdas:

Antes del 30 está el número

Antes del 70 está el número

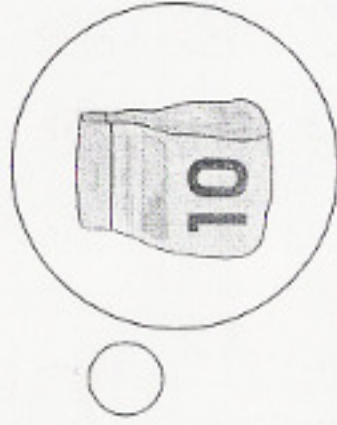
Después del 15 está el número

Después del 49 está el número

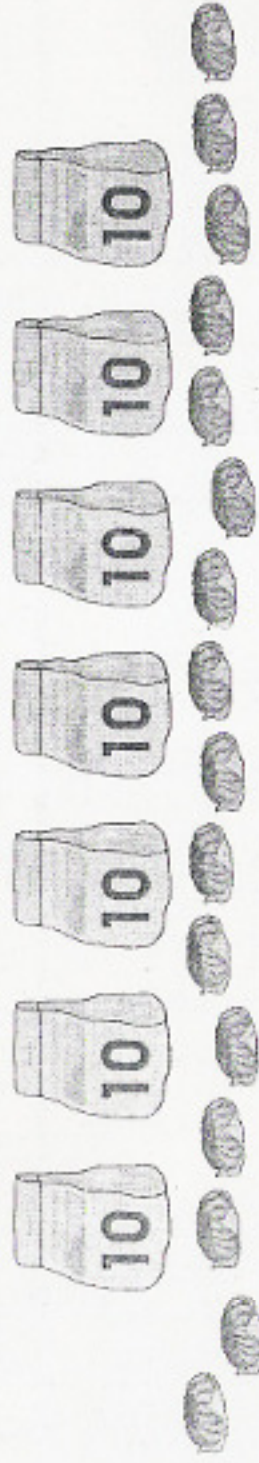


En una panadería vendían galletas sueltas y también en bolsitas que tenían una decena

Tacha (X) ¿En cuál dibujo crees que hay más galletas?



¿Cuántas galletas hay en total?



¡Listo! Cuenta las fichas y escribe el resultado.

Vale 1 ○

Vale 10 ●

● ○ ○ ○ =

--	--

○ ○ ○ ○ ● =

--	--

○ ● ○ ● ○ ● =

--	--

● ● ● ● ● ● ● ● =




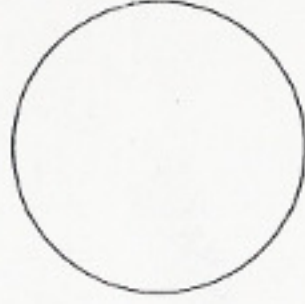
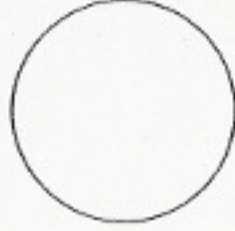
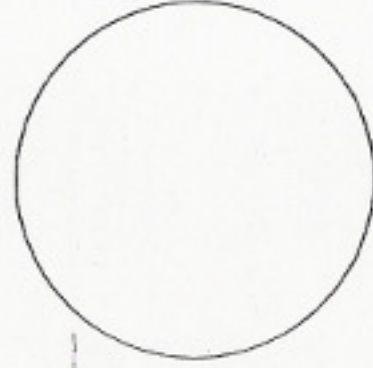
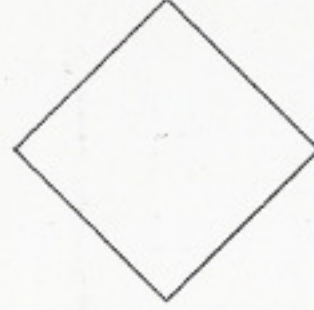


--	--

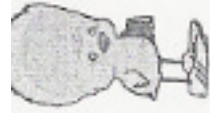
○ ○ ○ ○ ○ ○ ○ ○ ○ ○ ● =

--	--



Colorea la silueta que es igual a la figura negra.





Ordena las siguientes cifras de mayor a menor.

70 16 35 82 44 61 48

57 8 99 100 5 19 26 65

Y ahora de menor a mayor

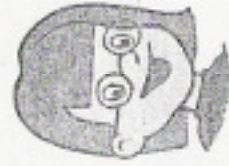
70 23 58 10 69 20 83

25 76 39 3 16 100 89 6



Observa y contesta lo que se te pide.

● vale 10 ○ vale 1



Claudia



Andrea



¿Quién tiene más? _____



Javier



Alex



Pedro



¿Quién tiene más? _____



Observa y contesta lo que se te pide.

● vale 10 ○ vale 1



Claudia



=



Andrea



=

¿Quién tiene más? _____



Javier



=



Alex



=



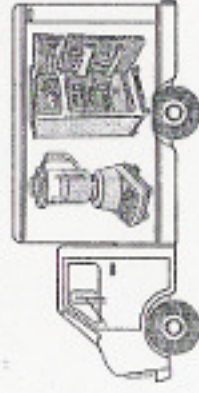
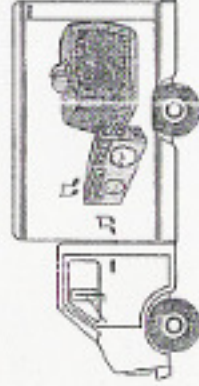
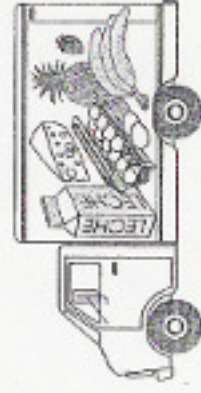
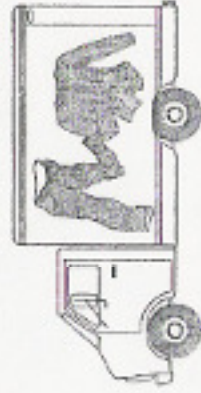
Pedro



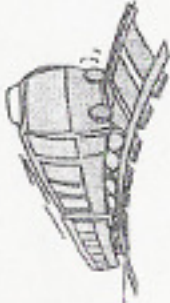
=

¿Quién tiene más? _____

1.- Colorea los transportes que llevan productos al campo.



2.- Tacha (X) los medios de comunicación y encierra en un círculo los transportes, anota su nombre en la raya.



3.- Escribe los meses del año.

Enero

¡El Cajero!




30

○ vale 1

● vale 10

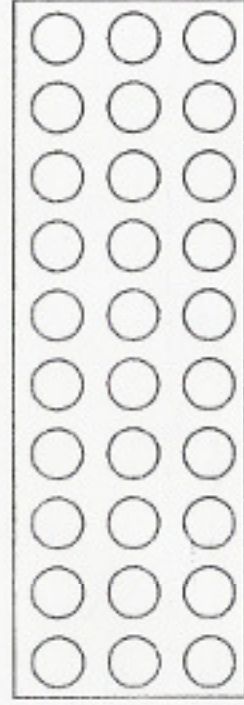

Cambia estas fichas por fichas que valen 10
y dibujalas en los cuadros.





=



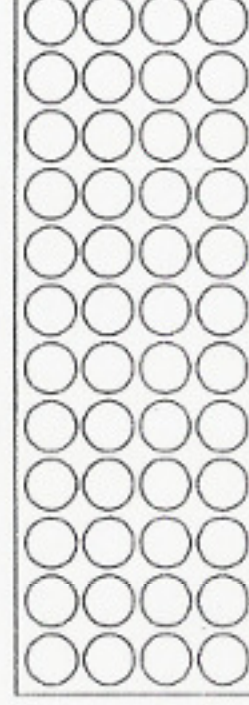
=




=



=



=





¡Qué bonitas vacaciones!

Colorea el dibujo y resuelve las sumas

$$50 + 30 + 10 = \square$$

$$19 + 21 + 40 = \square$$

$$38 + 12 + 24 = \square$$

$$30 + 25 + 12 = \square$$



$$16 + 42 + 20 = \square$$

$$17 + 31 + 35 = \square$$

$$44 + 13 + 30 = \square$$

$$20 + 38 + 13 = \square$$



$$\begin{array}{r} 80 \\ + 11 \\ \hline 21 \end{array}$$

$$\begin{array}{r} 52 \\ + 14 \\ \hline 15 \end{array}$$

